

Løsningsforslag for FYS2140 Kvantefysikk, Fredag 16. august 2019

Oppgave 1: Partiklers bølgelengde og Compton spredning

Vi tar utgangspunkt i det relativistiske uttrykket for energien til en partikkel

$$E = \sqrt{E_0^2 + p^2 c^2}. \quad (1)$$

Bruk eV som enhet for energi og eV/c som enhet for bevegelsesmengde.

- a) Gjør kort rede for størrelsene som inngår i Likn. (1). Hvordan vil likningen se ut for en masseløs partikkel?

Svar: Likning (1) beskriver to deler, den første er:

$$E_0 = m_0 c^2, \quad (2)$$

som er den relativistiske hvileenergien til en partikkel der m_0 er partikkelens hvilemasse og c er lysets hastighet. Den andre delen er:

$$pc = h\nu, \quad (3)$$

som er bevegelsesmengden til en partikkel ganget med lysets hastighet, $\nu = \frac{c}{\lambda}$ og h er Planks konstant. Likning (1) reduseres til $E = pc$ for masseløse partikler, for eksempel fotonet.

- b) Hva er uttrykket for energien E til et foton som funksjon av bølgelengden λ ? Bruk dette og Likn. (1) for å finne fotonets energi og bevegelsesmengde når bølgelengden er 500 nm = 5.00×10^{-7} m.

Svar: Energien til et foton (partikkel med masse $m = 0$) er:

$$E = h\nu = \frac{hc}{\lambda}. \quad (4)$$

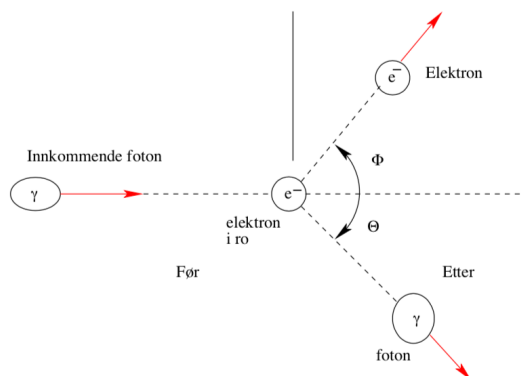
Bruker vi at $\lambda = 500$ nm sammen med likningene (1) og (4), får vi:

$$E = \frac{hc}{\lambda} = \frac{1240 \text{ eV nm}}{500 \text{ nm}} = 2.48 \text{ eV} \quad (5)$$

Og siden $E_0 = mc^2 = 0$ for et foton, blir

$$p = \frac{E}{c} = 2.48 \frac{\text{eV}}{c}, \quad (6)$$

hvor $c = 2.99 \times 10^8$ m/s.



Figur 1: Situasjonen før og etter Compton-spredning (tatt fra kompendiet).

I et Compton-eksperiment blir et foton med energi $E = h\nu = hc/\lambda$ spredd en vinkel θ mot et elektron som antas å ligge i ro før spredningen.

- c) Tegn en skisse av Compton-spredning hvor du angir spredningsvinkelen θ for fotonet etter spredningen.

Svar: En skisse av Compton-spredning er vist i Fig. 1.

- d) Comptons formel er gitt ved

$$\lambda' - \lambda = \frac{h}{m_e c} (1 - \cos \theta). \quad (7)$$

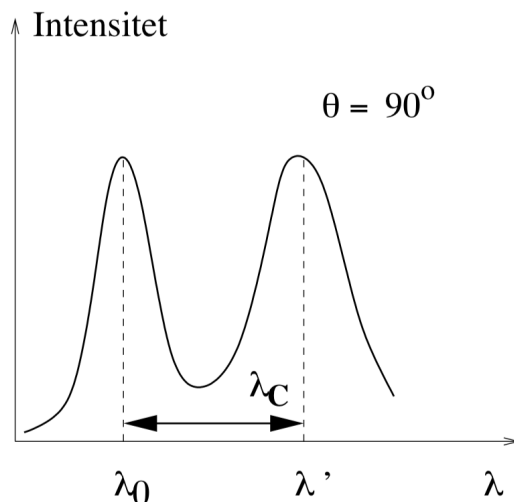
Formuler de tre viktigste fysiske prinsippene/sammenhengene som trengs for å beregne bølgelengden λ' til det spredte fotonet. Du skal *ikke* utlede Comptons formel.

Svar: For å kunne beregne bølgelengden λ' til det spredte fotonet trenger vi de Broglie relasjonen $p = h/\lambda$ og konserveringssatsene:

- Bevaring av energi (før og etter støtet)
- Bevaring av bevegelsesmengde (før og etter støtet)

Røntgenstråler med en bølgelengde 0.121nm treffer en målskive med karbonatomer. De spredte røntgenstrålene blir observert i en vinkel på 90° . Intensiteten av de spredte røntgenstrålene som funksjon av bølgelengden λ' ved denne vinkelen, er skissert i Fig. 2.

- e) Beregn den teoretiske bølgelengden λ' til de spredte røntgenfotonene ved $\theta = 90^\circ$.



Figur 2: Intensitet av spredte røntgenstråler ved $\theta = 90^\circ$ (tatt fra kompendiet).

Svar: Bølgelengden λ' til de spredte røntgenfotonene ved $\theta = 90^\circ$ blir i henhold til Comptons formel:

$$\lambda' = \frac{h}{m_e c} (1 - \cos \theta) + \lambda = \frac{1240 \text{ eV}}{0.511 \times 10^6 \text{ eV}} (1 - \cos 90^\circ) + 0.121 \text{ nm} = 0.123 \text{ nm}, \quad (8)$$

hvor vi har antatt en innkommende bølge med bølgelengde $\lambda = 0.121 \text{ nm}$.

- f) Figur 2 viser en topp ved $\lambda_0 = 0.121 \text{ nm}$ (den opprinnelige bølgelengden til røntgenfotonene). Hva skyldes denne toppen?

Svar: Toppen nær λ_0 skyldes at et foton har kollidert med et elektron, men det har ikke hatt nok energi til å løsrive elektronet fra atomet. Dermed må vi beregne atomets rekyleffekt (og ikke elektronets). Vi har da:

$$\gamma + \text{atom} \rightarrow \gamma' + \text{atom}' \quad (9)$$

Bølgelengden blir da

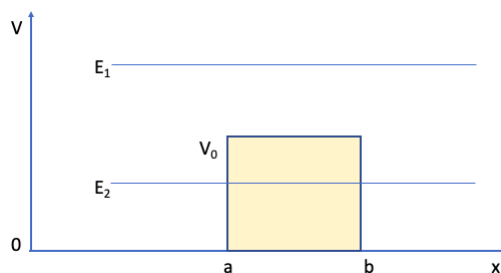
$$\lambda' - \lambda = \frac{h}{M_{\text{atom}} c} (1 - \cos \theta) \quad (10)$$

Siden massen til atomet er mye større enn massen til elektronet, blir $\lambda' - \lambda \approx 0$ og dermed blir $\lambda' \approx \lambda_0$.

Oppgave 2: Potensialbarriere

En strøm av partikler kommer inn fra venstre i Fig. 3 og møter en potensialbarriere med høyde V_0 . Vi studerer to tilfeller:

- Tilfelle 1: Den kinetiske energien er $E_1 > V_0$
- Tilfelle 2: Den kinetiske energien er $E_2 < V_0$



Figur 3: Partikler med energi E_1 eller E_2 møter et potensial med høyde V_0 .

- a) Forklar kort hva som skjer klassisk og kvantemekanisk i de to tilfellene.

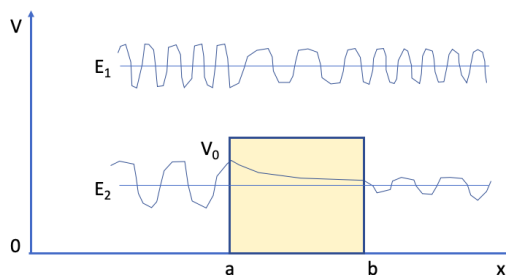
Svar:

Tilfelle 1: Klassisk vil partiklene passere barrieren, mens kvantemekanisk vil det være noe sannsynlig at ikke alle partiklene passerer barrieren.

Tilfelle 2: Klassisk vil alle partiklene bli spredt tilbake, mens kvantemekanisk vil noen partikler tunnelere gjennom barrieren.

- b) Skissér den delen av bølgefunksjonen som går mot høyre i de to tilfellene. Det skal ikke gjøres beregninger, men vær nøyaktig med å tegne forandringer i bølgelengden λ til partikkelen og i amplituden av bølgefunksjonen ψ .

Svar: Bølgefunksjonene er skissert i Fig. 4. Bølgelengden skal være lik før og etter barrieren, men amplituden reduseres ved møte med barrieren.



Figur 4: Skisse av bølgefunksjoner med energi E_1 og E_2 .

Oppgave 3: Hydrogenatomet

I denne oppgaven ser vi bort fra elektronets egenspin. Hydrogenatomets sentralpotensial er gitt ved

$$V(r) = -\frac{k}{r}, \quad (11)$$

hvor vi bruker polarkoordinater $\vec{r} = (r, \theta, \phi)$. Coulomb-konstanten er definert ved $k = e^2/4\pi\epsilon_0$. Hydrogenatomets Hamilton-operator er gitt ved

$$\hat{H} = -\frac{\hbar^2}{2m} \left(\frac{\partial^2}{\partial r^2} + \frac{2}{r} \frac{\partial}{\partial r} - \frac{\hat{L}^2}{\hbar^2 r^2} \right) + V(r). \quad (12)$$

Generelt betegner man systemets energi-egenfunksjon ved $\psi_{nlm}(\vec{r})$.

- a) Hva er fellesbetegnelsen på n , l og m og hvilke regler gjelder for hvert av disse i hydrogenatomet.

Svar: De kalles kvantetall. Hovedkvantetallet kan være $n = 1, 2, 3, \dots$, $l = n - 1, n - 2, \dots, 0$ og $m = \pm l, \pm(l - 1), \dots, 0$.

Hydrogens grunntilstand er gitt ved

$$\psi_{100}(\vec{r}) = Ae^{-r/a}, \quad (13)$$

hvor A er normeringskonstanten og parameteren a har dimensjon lengde.

- b) Skriv opp normeringsintegralet for ψ_{100} og finn normeringskonstanten A , som antas å være en positiv og reell størrelse. *Hint:* Du kan dra nytte av likheten $\int_0^\infty x^n e^{-x/a} dx = n!a^{n+1}$.

Svar: Normeringsintegralet er 3-dimensjonalt og er generelt gitt ved

$$\int |\psi(\vec{r})|^2 d^3\vec{r} = \int_0^{2\pi} \int_0^\pi \int_0^\infty |\psi(\vec{r})|^2 r^2 \sin\theta dr d\theta d\phi = 1. \quad (14)$$

For ψ_{100} får vi

$$\begin{aligned} \int |\psi_{100}(\vec{r})|^2 d^3\vec{r} &= \int_0^{2\pi} \int_0^\pi \int_0^\infty |\psi_{100}(\vec{r})|^2 r^2 \sin\theta dr d\theta d\phi \\ &= 2\pi \int_0^\pi \int_0^\infty |A|^2 e^{-2r/a} r^2 \sin\theta dr d\theta \\ &= 4\pi |A|^2 \int_0^\infty r^2 e^{-2r/a} dr \\ &= 4\pi |A|^2 \frac{1}{8} \int_0^\infty x^2 e^{-x/a} dx \\ &= 4\pi |A|^2 \frac{1}{8} 2! a^3 = 1, \end{aligned} \quad (15)$$

som gir $A = \sqrt{\frac{1}{\pi a^3}}$. I regningene over har vi substituert $x = 2r$ slik at hintet med $n = 2$, kunne brukes.

c) Uten beregninger, hva kan du si om angulærmomentet til grunntilstanden?

Svar: Siden grunntilstanden er kulesymmetrisk og dermed uavhengig av θ og ϕ , vil $\hat{L}^2\psi_{100} = 0$. Altså er angulærmomentet i grunntilstanden lik null.

d) Bestem lengden a og grunntilstanden E_1 uttrykt ved hjelp av fundamentale konstanter. *Hint:* Innsett ψ_{100} i den tidsuavhengige Schrödingerlikningen med Hamilton-operatoren fra Likn. (12).

Svar: I henhold til svaret i c), dropper vi \hat{L}^2 -leddet i Hamilton-operatoren. Vi forbereder også uttrykkene:

$$\frac{d}{dr}\psi_{100} = -\frac{1}{a}\psi_{100}, \quad (16)$$

$$\frac{d^2}{dr^2}\psi_{100} = \frac{1}{a^2}\psi_{100}. \quad (17)$$

Dermed får vi

$$\begin{aligned} \hat{H}\psi_{100} &= E_1\psi_{100} \\ &= -\frac{\hbar^2}{2m} \left(\frac{\partial^2}{\partial r^2} + \frac{2}{r} \frac{\partial}{\partial r} \right) \psi_{100} - \frac{k}{r}\psi_{100} \\ &= -\frac{\hbar^2}{2m} \left(\frac{1}{a^2} - \frac{2}{r} \frac{1}{a} \right) \psi_{100} - \frac{k}{r}\psi_{100}. \end{aligned} \quad (18)$$

Da likningen skal være oppfylt for alle r , må r^{-1} -leddet bli 0, det vil si $\frac{\hbar^2}{2m} \frac{2}{a} = k$, som gir $a = \frac{4\pi\epsilon_0\hbar^2}{me^2}$. Dermed er energi-egenverdien gitt ved $E_1 = -\frac{\hbar^2}{2ma^2} = -\frac{m}{2\hbar^2} \left(\frac{e^2}{4\pi\epsilon_0} \right)^2$.

Anta at dette systemet prepareres i tilstanden

$$\psi_n(\vec{r}) = R_n(r)Y(\theta, \phi) = R_n(r)\sqrt{\frac{3}{4\pi}} \sin\theta \sin\phi, \quad (19)$$

hvor R_n er hydrogenatomets radialfunksjon. Operatoren for kvadratet av angulærmomentet er

$$\hat{L}^2 = -\hbar^2 \left(\frac{\partial^2}{\partial \theta^2} + \frac{1}{\tan\theta} \frac{\partial}{\partial \theta} + \frac{1}{\sin^2\theta} \frac{\partial^2}{\partial \phi^2} \right). \quad (20)$$

e) Vis at $\hat{L}^2\psi_n(\vec{r}) = 2\hbar^2\psi_n(\vec{r})$. Hvilke betingelser setter dette på n , l og m ?

Svar:

$$\begin{aligned}
\hat{L}^2 Y &= -\hbar^2 \left(\frac{\partial^2}{\partial \theta^2} + \frac{1}{\tan \theta} \frac{\partial}{\partial \theta} + \frac{1}{\sin^2 \theta} \frac{\partial^2}{\partial \phi^2} \right) \sqrt{\frac{3}{4\pi}} \sin \theta \sin \phi \\
&= -\hbar^2 \sqrt{\frac{3}{4\pi}} \left(-\sin \theta \sin \phi + \frac{1}{\tan \theta} \cos \theta \sin \phi - \frac{1}{\sin^2 \theta} \sin \theta \sin \phi \right) \\
&= -\hbar^2 \sqrt{\frac{3}{4\pi}} \left(-\sin \theta \sin \phi + \frac{\cos^2 \theta}{\sin \theta} \sin \phi - \frac{1}{\sin \theta} \sin \phi \right) \\
&= -\hbar^2 \sqrt{\frac{3}{4\pi}} \left(-\sin \theta \sin \phi + \frac{1}{\sin \theta} \sin \phi - \frac{\sin^2 \theta}{\sin \theta} \sin \phi - \frac{1}{\sin \theta} \sin \phi \right) \\
&= 2\hbar^2 \sqrt{\frac{3}{4\pi}} \sin \theta \sin \phi. \tag{21}
\end{aligned}$$

Vi har dermed vist at Y er egenfunksjon for \hat{L}^2 med egenverdi $\hbar^2 l(l+1) = 2\hbar^2$ som gir $l = 1$. Dermed er tallverdien til m begrenset til maksimum 1. Hovedkvantetallet n kan være 2 eller større.

- f) Anta at observabelen L_z måles når systemet er preparert som i Likn. (19). Hva er de mulige måleresultatene, og hvor sannsynlig er hver av disse? *Hint:* Du kan få bruk for disse sfærisk-harmoniske funksjonene $Y_l^m = Y_1^{\pm 1} = \mp \sqrt{\frac{3}{8\pi}} \sin \theta e^{\pm i\phi}$, og at $\sin \phi = (e^{i\phi} - e^{-i\phi})/2i$.

Svar: Vi vet at Y har kvantetallet $l = 1$. Vi ønsker derfor å skrive Y som en lineærkombinasjon av sfærisk harmoniske med $l = 1$. Vi bruker hintet i oppgaven og omskriver $\sin \phi$:

$$\begin{aligned}
Y &= \sqrt{\frac{3}{4\pi}} \sin \theta \sin \phi \\
&= \sqrt{\frac{3}{4\pi}} \sin \theta \frac{e^{i\phi} - e^{-i\phi}}{2i} \\
&= \frac{i}{2} \sqrt{2} (Y_1^1 + Y_1^{-1}). \tag{22}
\end{aligned}$$

De mulige måleresultater for L_z er \hbar eller $-\hbar$. Sannsynligheten for å observere hver av måleresultatene er $|\frac{i}{2}\sqrt{2}|^2 = 1/2$.