

i OD5100 Eksamen

Protetikkeksamen OD5100

- Protetikkeksamen for OD5100 består av to deler:
 - **Del 1** med 8 spørsmål
 - **Del 2** med to kasus (**GE** og **AE**) med tre, respektive ett, tilhørende spørsmål til hvert kasus
- Vi ønsker svarene i punktform. Alle svarene skal være utfyllende slik at det tydelig fremgår at temaet er forstått
- Total poengsum er 128
- Det kan gis minuspoeng ved f.eks. feilaktig argumentering for behandlingsvalg
- Det vil bli gjennomført plagiatskontroll

Lykke till!










i Del 1


- **Del 1**
- Oppgavene 1-8

1 Oppgave 1 (4p)

- Forklar begrepene **"retensjonsform"** og **"motstandsform"** i forbindelse med kronepreparering

Skriv ditt svar her

Format ▾ | **B** | *I* | U | x_2 | x^2 | \int_x |  |  |  |  |  |  |  | Ω |  |  | Σ |












Words: 0


Maks poeng: 4

2 Oppgave 2 (10p)

- Beskriv den kliniske fremgangsmåten ved adhesiv sementering av feltspatporselen
- Det ønskes beskrivelse av hele prosessen fra forbehandling av preparert tann og protetisk konstruksjon til fullført prosedyre

Skriv ditt svar her

Format ▼ | **B** | *I* | U | x_2 | x^2 | \int_x |  |  |  |  |  |  |  | Ω |  |  | Σ |











Words: 0


Maks poeng: 10

3 Oppgave 3 (6p)

- Beskriv **tannlegens** arbeidsoppgaver ved fremstilling og tilpasning av **stabiliseringskinne** i behandling av TMD
- (**Ikke** inkluder forundersøkelsen)

Skriv ditt svar her

Format ▾ | **B** | *I* | U | x_2 | x^2 | \mathcal{I}_x |  |  |  |  |  |  | Ω |  |  | Σ |













Words: 0


Maks poeng: 6

4 Oppgave 4 (6p)

- Hvilke odontologiske diagnoser brukes i forbindelse med **patologisk tannslitasje**?
- Beskriv utfyllende hva som ligger i de ulike diagnosene

Skriv ditt svar her

Format ▼ | **B** | *I* | U | x_2 | x^2 | \int_x |  |  |  |  |  |  |  |  |  |  | Σ |













Words: 0


Maks poeng: 6

5 Oppgave 5 (6p)

- Du har fått en MK (metall-keramikk)-krone tilbake fra tanntekniker. Ved innprøving på pasient finner du at kronen er for høy
- Beskriv hva årsakene kan være – og hvordan du vil gå fram for å korrigere feilene

Skriv ditt svar her

Format - | **B** | *I* | U | x_2 | x^p | \int_x |  |  |  |  |  |  |  |  |  |  |









Words: 0


Maks poeng: 6

6 Oppgave 6 (6p)

- Forklar punktvis og utfyllende hvorfor en kronepreparert tann skal ha en provisorisk erstatning i perioden fra preparering og avtrykk til sementering av permanent krone

Skriv ditt svar her

Format ▾ | **B** | *I* | U | x_2 | x^2 | I_x |  |  |  |  |  |  | Ω |  |  | Σ |













Words: 0


Maks poeng: 6

7 Oppgave 7 (10p)

- Beskriv de anatomiske begrensningene for den maksimale utstrekning av helproteser i over- og underkjeve

Skriv ditt svar her

Format ▼ | **B** | *I* | U | x_2 | x^2 | I_x |  |  |  |  |  |  |  |  |  |  | Σ |



Words: 0












Maks poeng: 10


8 Oppgave 8 (10p)

- En pasient har helprotese i overkjeven og resttannsett 43-33
- Det skal konstrueres en bilateral, støpt friendeprotese i underkjeven

1. Hva vil være bestemmende for om sadlene skal forbindes med en **dental** eller **lingual** barr?
2. Hvor ville du plassere oppleggene dersom
 - a) Resttannsettet består av intakte tannkroner?
 - b) Tann 33 og 43 har mange defekte fyllinger og må restaureres med kroner?

Skriv ditt svar her

Format ▼ | **B** | *I* | U | x_2 | x^2 | \int_x |  |  |  |  |  |  |  |  |  |  |  |



Words: 0

Maks poeng: 10

i Del 2

- Del 2
- Kasus **GE** med oppgavene **GE 1-3**
- Kasus **AE** med oppgavene **AE 1**

i Kasus GE - bakgrunn

- Se under for aktuell bakgrunnsinformasjon om kasus
- Benytt kun den oppgitte informasjonen som grunnlag for besvarelsen

- Generelt
 - Kjønn: mann
 - Alder: 45 år
 - Yrke: fisker
 - Medisiner: nei
 - Røyker/snuser/alkohol/narkotika: ja, røyker ca. 10 sigaretter per dag
- Lokal anamnese
 - Slimhinner: uten anmerkning
 - Karies: uten anmerkning
 - Periodontale forhold: ingen BOP, godt renhold
- Bakgrunn
 - Pasienten kommer pga. symptomer fra tann 21
 - Tann 21 må ekstraheres pga. en endo-perio-lesjon
 - Pasienten ønsker tann 21 erstattet

BILDE

FJERNET









BILDE FORMEL


9 Oppgave GE 1 (10p)

- Det er i praksis kun to aktuelle behandlingsalternativer når pasienten nå ønsker tannen erstattet med en fast permanent løsning
- Svar ut fra informasjon gitt ved de to røntgenbildene

- Beskriv **inngående** fordeler og ulemper ved de to ulike behandlingsalternativene

Skriv ditt svar her

Format ▾ | **B** | *I* | U | x_2 | x^2 | I_x |  |  |  |  |  |  | Ω |  |  | Σ |



Words: 0










BILDE FJERNET


Maks poeng: 10

10 Oppgave GE 2 (20 p)

- Beskriv behandlingsgangen for de to ulike behandlingalternativene gitt i ditt svar på oppgave GE 1

Skriv ditt svar her

Format ▾ | **B** *I* U x_0 x^p | I_x |   |   |   |   |  |

Σ | 

Words: 0

Maks poeng: 20

11 Oppgave GE 3 (10p)

- Beskriv mulige materialvalg for de to ulike protetiske konstruksjonene gitt i ditt svar på oppgave GE 1

Skriv ditt svar her

Format | **B** | *I* | U | ^{x₂} | ^{x²} | \int_x | | | | | | | | | |

Σ |

Words: 0

Maks poeng: 10

i Kasus AE - bakgrunn

- **Kasus AE**
- Se under for aktuell bakgrunnsinformasjon om kasus
- Benytt kun den oppgitte informasjonen som grunnlag for besvarelsen

- **Generelt**
 - Kjønn: kvinne
 - Alder: 33 år
 - Yrke: butikkmedarbeider
 - Medisiner: nei
 - Røyker/snuser/alkohol/narkotika: nei





- **Lokal anamnese**
 - Kjeveledd: uten anmerkning (bilateral collumfraktur 2018)
 - Tyggefunksjon: uten anmerkning
 - Slimhinner: uten anmerkning
 - Karies: uten anmerkning
 - Periodontale forhold: uten anmerkning


- **Bakgrunn**
 - Traume juli 2018. Behandlet ved sykehus. Bilateral collumfraktur, delvis symfysefraktur. Blødning fra hørselgang
 - Pasienten ønsker erstatning for tapte tenner og vil derfor vite hvilke protetiske behandlingsalternativer som finnes

12 Oppgave AE 1 (30 p)

- **Vurder** hvilke behandlingsalternativer som kan være aktuelle for denne pasienten på bakgrunn av gitt informasjon
- Ingen behandling er **ikke** et alternativ i dette tilfellet!
- Det ønskes utfyllende svar!

Skriv ditt svar her

Format ▾ | **B** | *I* | U | ^{x₂} | ^{x²} | \int_x |  |  | ↶ | ↷ | ↻ | ☰ | ☷ | Ω |  |  |

Σ | 

Words: 0

