

i Eksamen i samfunnsodontologi, våren 2023

Eksamen består av 3 hoveddeler:

- A. Tannhelse og jus - 4 oppgaver (30 poeng)
- B. Epidemiologi - 1 oppgave (10 poeng)
- C. Tannhelsetjenesten - 1 oppgave (60 poeng)

Eksamen blir vurdert som Bestått/Ikke bestått











1 Del A. Tannhelse og jus - oppgave 1

Lov om folketrygd §§5-6 og 5-6a. Helfo – «Det gule heftet»

Stønads punkt 6 i rundskrivet gjelder behandling av sykdommen periodontitt. I det tilhørende takstheftet finner vi takstgruppe F. «Periodontal behandling og rehabilitering etter periodontitt».

- Hva er forutsetningen for å bruke takst 501?
- Hvilke elementer forutsettes å inngå i behandlingen?
- Hvor lenge må behandlingen pågå for å benytte taksten to ganger i samme seanse?
- Hvor mange ganger per kalenderår kan taksten benyttes for samme pasient?
- Kan takst 1 benyttes for disse pasientene? Hvis ja – hvor mange ganger?

Skriv ditt svar her

Format | **B** | *I* | U | x_2 | x^2 | I_x |  |  |  |  |  |  |  |  |  |  |

Words: 0

Maks poeng: 10

Knytte håndtegninger til denne oppgaven?
Bruk følgende kode:









XXXXXXXX


2 Del A. Tannhelse og jus - oppgave 2

Klagesaker

- a) List opp klage- / erstatningsorganene du kjenner til.
- b) Hva er nedre grense for økonomisk tap dersom NPE skal behandle en søknad om erstatning?

Skriv ditt svar her

Format ▼ | **B** | *I* | U | x_2 | x^2 | I_x |  |  |  |  |  |  | Ω |  |  | Σ |



Words: 0

Maks poeng: 10

Knytte håndtegninger til denne oppgaven?
Bruk følgende kode:












XXXXXXXXXX


3 Del A. Tannhelse og jus - oppgave 3

Helfo – Begreper knyttet til refusjon og egenbetaling

- a) Beskriv forskjellene på «Mellomlegg», «Refusjonstakst», «Honorartakst» og «Egenandel».
- b) Blir periodontitt-behandlingen gratis for pasienten når egenandelstaket er nådd? (begrunn svaret)

Skriv ditt svar her

Format ▾ | **B** *I* U x_2 x^2 | I_x |   |    |   |   |  |  |



Words: 0

Maks poeng: 10

Knytte håndtegninger til denne oppgaven?

Bruk følgende kode:











XXXXXXXX


4 Del A. Tannhelse og jus - oppgave 4

I §21 i Lov om helsepersonell heter det: «Helsepersonell skal hindre at andre får adgang eller kjennskap til opplysninger om folks legems- eller sykdomsforhold eller andre personlige forhold som de får vite om i egenskap av å være helsepersonell».

- a) Nevn hvilke unntak som gjelder fra hovedregelen om taushetsplikt.

Skriv ditt svar her

Format | **B** | *I* | U | x_2 | x^2 | I_x |  |  |  |  |  |  |  |  |  |  |



Words: 0

Maks poeng: 10

Knytte håndtegninger til denne oppgaven?

Bruk følgende kode:












XXXXXXXXXX


5 Del B. Epidemiologi (30 poeng)

Hva er de fire viktigste dødsårsakene i Norge i dag?

Hvordan har forekomsten av disse endret seg i løpet av de siste 10 år?

Skriv ditt svar her

Format ▾ | **B** *I* U x_2 x^2 | I_x |   |    |   |   |  |  |



Words: 0

Maks poeng: 10

Knytte håndtegninger til denne oppgaven?

Bruk følgende kode:

XXXXXXXX

6 Del C. Tannhelsetjenesten (60 poeng)











Den private tannhelsetjenesten er organisert som et fri konkurranse marked.

Gjør rede for hvordan honorarene bestemmes i et slikt marked.

Bruk gjerne figurer.

Hva bestemmer hvor mange pasienter det er lønnsomt å se i en privat praksis?

Skriv ditt svar her

Format | **B** | *I* | U | x_2 | x^2 | I_x |  |  |  |  |  |  |  |  |  |  |

Words: 0

Maks poeng: 10

Knytte håndtegninger til denne oppgaven?

Bruk følgende kode:

XXXXXXXX